

الاجابة النموذجية لامتحان مادة: إدارة المشاريع

الجواب الأول: اختيار الاجابة أو الاجابات الصحيحة : 5ن

1- مؤشرات التحذير المبكرة تضم:

- المهام الحرجة المتأخرة انحراف الجدول الزمني معدل اعادة العمل
- تقديرات الوقت غير الواقعية نسبة تغيير الجدول الزمني مدة التأخير.

2- عمليات المتابعة والتحكم في المشروع تضم:

- توجيه وادارة اعمال المشروع التحكم المتكامل بالتغيير في المشروع تحديد موارد المشروع
- ادارة التكامل التحقق من النطاق وضع خطة التواصل المتابعة والتحكم في المشروع.

3- عناصر المشروع تضم:

- فريق العمل لتكاليف الوقت لمقاولة من الباطن أصحاب المصالح النطاق.

4- البرنامج يضم:

- المحفظة مجموعة مشاريع الانشطة اليومية للمؤسسة


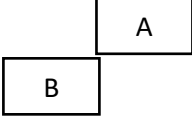
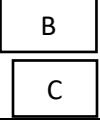
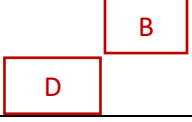

السؤال الثاني: أكمل الجدول التالي: 4ن

نوع قيود الانشطة	الوصف
يبدأ بحد أقصى	النشاط يجب أن يبدأ قبل هذا التاريخ أو فيه
ينتهي بحد أدنى	النشاط قد لا يتم استكمال قبل هذا التاريخ
ينتهي بحد أقصى	النشاط يجب ان يستكمل بحلول هذا التاريخ
يبدأ بحد أدنى	النشاط قد لا يبدأ قبل هذا التاريخ

الجواب الثالث: يتمثل الفرق بين المشاريع والعمليات اليومية للمؤسسة في: 6ن

المشاريع	العمليات اليومية للمؤسسة
مؤقتة لها بداية ولها نهاية	أنشطة مستمرة
منتج أو خدمة فريدة	منتجات أو خدمات متكررة ومتشابهة
لا تمثل جزء من العمليات اليومية للمؤسسة	الأعمال المعتادة للمؤسسة

الجواب الرابع: اكمال الجدول: 5ن

النشاط	النشاط السابق	نوع الاعتمادية	الوصف	التمثيل
A	-	-	يبدأ النشاط A دون اعتمادية على نشاطات أخرى	
B	A	علاقة نهاية الى بداية	النشاط A يجب أن ينتهي قبل بدأ النشاط B	
C	B	علاقة بداية الى بداية	النشاط C يبدأ عندما يبدأ النشاط B	
D	B	علاقة نهاية الى بداية	النشاط D يبدأ عندما ينتهي النشاط B	
E	C	علاقة نهاية الى نهاية	عندما ينتهي النشاط C ينتهي النشاط E	
F	C E	علاقة بداية إلى نهاية	عندما يبدأ النشاط F يكون النشاط C و E انتهى	